

Alumno/a:

Curso:

FERIA DE COCHES DE OCASIÓN

¿Conoces las marcas y modelos de estos coches?


Calcula las divisiones y el resto te dará la solución según la clave. Después tunealos a tu gusto.

$173129 \overline{)64}$




Es un

$162036 \overline{)82}$



Es un

$32221 \overline{)39}$




Es un

$26516 \overline{)47}$



Es un

$15527 \overline{)23}$



Es un

$17519 \overline{)63}$



Es un

$8800 \overline{)25}$



Es un

$3809 \overline{)16}$



Es un

$38814 \overline{)98}$



Es un

$226278 \overline{)75}$



Es un

CLAVE: Resto 0. es un Mercedes Resto 1. es un BMV Resto 2. es un Smart Resto 3. es un Audi A4
 Resto 4. es un Renault Scenic Resto 5. es un Ford Focus Resto 6. es un Seat León
 Resto 7. es un Alfa Romeo Resto 8. es un Renault Megane Resto 9. es un Citroën Picasso