

NOMBRE:

CURSO:

FECHA:

ÁRBOL GENEALÓGICO DE LOS SIMPSONS

19498	56
269	348
458	
10	

cociente = 348
resto = 10

19616	74
481	265
376	
06	

cociente = 265
resto = 6

37438	83
423	451
088	
05	

cociente = 451
resto = 5

39617	69
511	574
287	
11	

cociente = 574
resto = 11



35914	38
171	945
194	
04	

cociente = 945
resto = 4

32941	49
354	672
111	
13	

cociente = 672
resto = 13



19739	57
263	346
359	
17	


cociente = 346
resto = 17

16628	19
142	875
098	
03	

cociente =
resto = 3

20516	26
231	789
236	
02	

cociente =
resto = 2



30971	95
247	326
571	
01	


cociente = 326
resto = 1

80079	85
357	942
179	
09	

cociente = 942
resto = 9







49184	72
598	683
224	
08	

cociente = 683
resto = 8



34823	64
282	544
263	
07	

cociente = 544
resto = 7



Colorea, recorta y pega los dibujos en el sitio que les corresponden según los restos obtenidos al realizar las divisiones y obtendrás un cuadro con el árbol genealógico de los Simpson.

